

06-02

Всероссийская олимпиада школьников

ШКОЛЬНЫЙ ЭТАП

Заполняется ПЕЧАТНЫМИ БУКВАМИ чернилами черного или синего цвета по образцам:

А	Б	В	Г	Д	Е	Ж	З	И	К	Л	М	Н	О	П	Р	С	Т	У	Ф	Х	Ц	Ч	Ш	Щ	Ъ	Ы	Ь	Э	Ю	Я	@	8	9	,
A	B	C	D	E	F	G	H	I	J	K	L	M	N	O	P	Q	R	S	T	U	V	W	X	Y	Z	1	2	3	4	5	6	7	0	.

ПРЕДМЕТ

Физическая культура

КЛАСС

6B

ДАТА

20.10.2023

ШИФР УЧАСТНИКА 06-02

ФАМИЛИЯ

Тавричан

ИМЯ

Юрий

ОТЧЕСТВО

Львович

ВСЕРОССИЙСКАЯ ОЛИМПИАДА ШКОЛЬНИКОВ  
ПО ФИЗИЧЕСКОЙ КУЛЬТУРЕ 2023–2024 уч. г.  
ШКОЛЬНЫЙ ЭТАП  
ТЕОРЕТИКО-МЕТОДИЧЕСКИЙ ТУР  
5–6 классы

**Инструкция по выполнению заданий**

Вам предлагаются задания, соответствующие требованиям к уровню знаний учащихся общеобразовательных школ по предмету «Физическая культура».

Задания объединены в 2 группы.

**I. Задания с выбором одного правильного ответа.** При выполнении этих заданий необходимо выбрать единственно правильный вариант из предложенных. Среди вариантов могут встретиться частично правильные, не подходящие в качестве ответа. Правильным является только один ответ – тот, который наиболее полно соответствует смыслу утверждения. Выбранный вариант отмечается зачёркиванием соответствующего квадрата в бланке ответов: «а», «б», «в» или «г».

Внимательно читайте задания и предлагаемые варианты ответов. Старайтесь не угадывать, а логически обосновывать сделанный Вами выбор. Пропускайте задания, ответы на которые вызывают затруднение. Это позволит сэкономить время для выполнения других заданий. Впоследствии Вы сможете вернуться к пропущенному заданию.

Правильно выполненные задания этой группы оцениваются в 1 балл.

**II. Задания, в которых необходимо завершить высказывание.** При выполнении этих заданий необходимо самостоятельно подобрать недостающие слова, чтобы получилось верное утверждение. Подобранные слова вписывайте в соответствующую графу бланка ответов.

Правильно выполненные задания этой группы оцениваются в 2 балла.

Контролируйте время выполнения заданий.

Время выполнения всех заданий – 45 минут.

Будьте внимательны, делая записи в бланке ответов. Исправления и подчистки оцениваются как неправильный ответ.

***Желаем успеха!***



## I. Задания с выбором одного правильного ответа

1. С какой периодичностью проводились Олимпийские игры в Древней Греции?

- а) каждый год
- б) один раз в два года
- в) один раз в четыре года
- г) один раз в пять лет

2. Кто является основоположником возрождения Олимпийских игр?

- а) Жан Жак Руссо б) Пьер де Кубертен
- в) Хуан Антонио Самаранч
- г) Николай Панин-Коломенкин

3. Когда и где состоятся ближайшие летние Олимпийские игры?

- а) в 2020 г. в Японии
- б) в 2022 г. в Китае
- в) в 2020 г. в США г) в 2022 г. в России

4. Что представлено на рисунке?



- а) талисманы Олимпийских игр
- б) символы Олимпийских игр
- в) ритуалы Олимпийских игр г) Олимпионики

5. Назовите дисциплину, не относящуюся к легкой атлетике.

- а) бег
- б) ходьба
- в) лазания
- г) метания

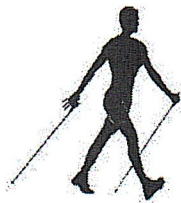
6. При каком условии считается правильным сгибание и разгибание рук в упоре лёжа при сдаче норм ГТО?

- а) плечи, туловище и ноги составляют прямую линию
- б) при сгибании рук происходит касание грудью станка (счётчика)
- в) каждое возвращение в исходное положение фиксируется на 1 с
- г) все перечисленные условия должны выполняться

7. Что из перечисленного относится к гимнастическим снарядам?

- а) перекладина
- б) скакалка
- в) гимнастическая палка
- г) обруч

8. Какой из видов ходьбы изображён на рисунке?




- а) спортивная ходьба
- б) скандинавская ходьба
- в) ходьба на носках
- г) ходьба на пятках

9. Какие фазы различают в прыжке в длину с разбега?

- а) исходное положение, прыжок, конечное положение
- б) разбег, отталкивание, полёт, приземление
- в) разбег, прыжок, выход из сектора, измерение результата
- г) вызов в сектор, прыжок, измерение результата, объявление результата

10. Как называется способ торможения при спуске с горы на лыжах?



- а) «лесенкой»
- б) «согнув ноги»
- в) «ёлочкой»
- г) «плугом»

11. Что из перечисленного является признаком правильной осанки?

- а) плечи сведены вперед;
- б) одинаковые треугольники талии;
- в) на разных уровнях плечи и нижние углы лопаток;
- г) сутулая спина

12. Сколько времени должно пройти между приёмом пищи и последующими физическими упражнениями?

- а) 23–30 минут
- б) 30–60 минут
- в) 2–2,5 часа
- г) 3–4 часа

13. Как называется положение, представленное на рисунке?



- а) основная стойка
- б) стойка ноги врозь
- в) стойка руки на пояс
- г) стойка скрестно левой



14. В ходьбе, в отличие от бега,
- а) другая координация работы рук и ног
  - б) отсутствует фаза полета
  - в) присутствует цикличность упражнения
  - г) длиннее шаги

15. В каком виде спорта во время игры запрещается касаться руками мяча?
- а) футбол
  - б) гандбол
  - в) водное поло
  - г) теннис

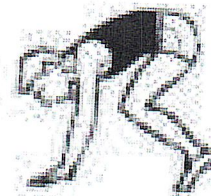
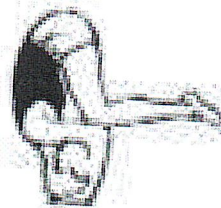
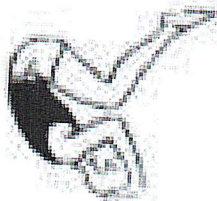
**II. Задания, в которых необходимо завершить высказывание**

*Завершите определение, вписав соответствующее слово в бланк ответов.*

16. Способность противостоять физическому утомлению в процессе мышечной деятельности.
17. В каком году были проведены первые Олимпийские игры современности?
18. Для какого вида спорта используется обувь, представленная на рисунке?



19. Физическое лицо, занимающееся избранным видом спорта и выступающее на спортивных соревнованиях.
20. Дайте правильную формулировку гимнастическому упражнению.



## Бланк ответа

### I. Задания с выбором одного правильного ответа.

№ вопроса	Варианты ответов			
	«а»	«б»	«в»	«г»
1	✓			
2			✓	
3			✓	✓
4			✓	✓
5				✓
6	✓			
7				✓
8		✓		
9		✓		
10		✓		

№ вопроса	Варианты ответов			
	«а»	«б»	«в»	«г»
11	✓			
12				✓
13	✓			
14	✓			
15	✓			

45

### II. Задания, в которых необходимо завершить высказывание.

№ вопроса	Ответ
16	Италия
17	В 1918 году
18	Таванне
19	спортивный - физическое лицо
20	принимать дела из устара востов статьи

45

Оценка (слагаемые и сумма) \_\_\_\_\_

Подписи членов жюри Иррашина С. И. и Мартовская Д. А.

Председатель: Бакров А. В.

Итого: 85